

200 bài toán khó lớp 2

Bài 1 : Từ 3 chữ số 3, 5, 6. Em hãy viết tất cả các số có hai chữ số có thể được

Bài 2 : Hãy viết các số có hai chữ số sao cho mỗi số chỉ có 1 chữ số 5

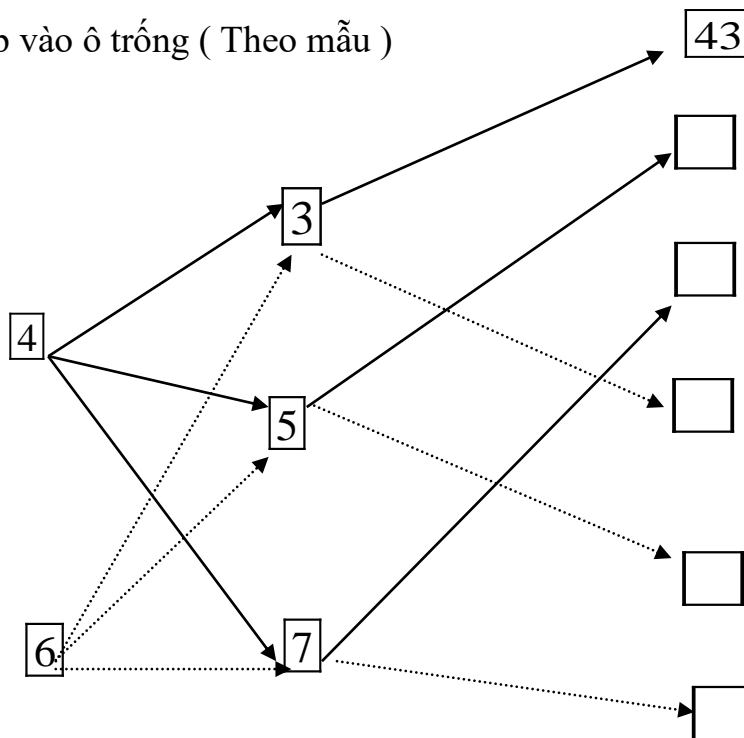
Bài 3 : Từ 3 số 4, 7, 9 em hãy viết tất cả các số có hai chữ số khác nhau (Ở mỗi số không có hai chữ số giống nhau)

Bài 4 : Số x có bao nhiêu chữ số biết

a) x bé hơn 100

b) x đứng liền sau một số có hai chữ số

Bài 5 : Viết số thích hợp vào ô trống (Theo mẫu)



Bài 6 : Tìm x biết

a) $x + 12 = 46$

b) $42 + x = 87$

c) $x + 26 = 12 + 17$

d) $34 + x = 86 - 21$

Bài 7 : Tìm x biết

a) $x - 17 = 23$

b) $x - 15 = 21 + 49$

c) $x - 34 = 67 - 49$

Bài 8 : Tìm x biết

a) $17 - x = 12$

b) $72 + 12 - x = 48$

c) $28 + 26 - x = 67 -$

39

Bài 9 : Tìm y biết

a) $y + 56 = 56 - y$
y

b) $48 - y = 48 + y$

c) $9 \times y = 7 \times y$

Bài 10 : Điền dấu $<$, $>$, $=$ thích hợp vào chỗ trống (Với x khác 0)

a) $x + 32 \dots\dots\dots 41 + x$

b) $56 - y \dots\dots\dots 45 - y$

c) $x - 26 \dots\dots\dots x - 18$

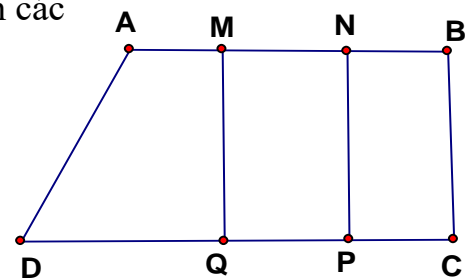
d) $42 + 21 + x \dots\dots\dots 42 + 21$

g) $52 - 47 \dots\dots\dots 52 - 47 - x$

h) $29 + 42 - x \dots\dots\dots 42 + 29 + x$

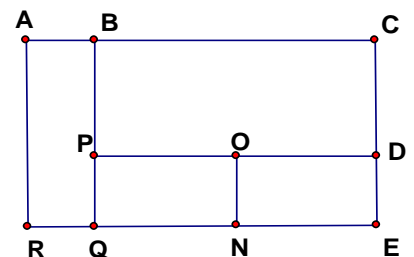
Bài 11 : Hình vẽ sau đây có bao nhiêu hình tứ giác , viết tên các hình tứ giác đó

.....

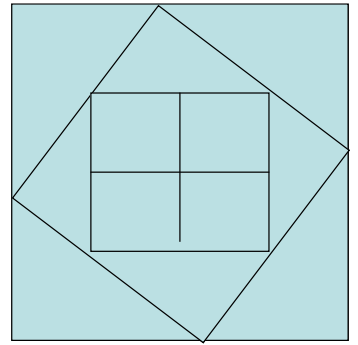


Bài 12 : Hình vẽ sau có bao nhiêu hình chữ nhật viết tên các hình chữ nhật đó

.....



Bài 13 : Hình vẽ sau có bao nhiêu hình vuông ,
bao nhiêu hình tam giác



.....
.....
.....
.....

Bài 14 : Bao gạo thứ nhất nặng 26 kg , bao gạo thứ 2 nặng hơn bao gạo thứ nhất 15 kg .
Hỏi cả hai bao gạo nặng bao nhiêu kg ?

.....
.....
.....
.....
.....
.....

Bài 15 : Thùng thứ nhất đựng 32 lít dầu , thùng thứ 2 đựng ít hơn thùng thứ nhất 9 lít dầu .
Hỏi cả hai thùng đựng được bao nhiêu lít dầu ?

.....
.....
.....
.....

Bài 16 : Một cửa hàng có 68 kg đường . Sau một ngày bán hàng còn lại 18 kg đường .
Hỏi cửa hàng đã bán hết bao nhiêu kg đường ?

.....
.....
.....

Bài 17 : Một cửa hàng bán được 45 kg gạo trong ngày đầu , còn lại 28 gạo sau ngày thứ nhất . Sau ngày thứ hai còn lại 2 kg gạo . Hỏi lúc ban đầu cửa hàng có bao nhiêu kg gạo ?
Cả hai ngày cửa hàng đã bán được bao nhiêu kg gạo ?

Bài 18 : Có một cân đĩa và hai quả cân loại 1kg và 5 kg . Làm thế nào cân được 4 kg gạo qua một lần cân ?

Bài 19: Thứ 5 tuần này là ngày 8 tháng 7 . Hỏi thứ 5 tuần trước là ngày nào ?

Bài 20 : Thứ sáu tuần này là ngày 16 tháng 9 . Hỏi thứ 7 tuần sau là ngày nào

Bài 21 : Hồng muốn biết sinh nhật của mình 15 tháng 6 là ngày thứ mấy .Bạn Mai lại cho biết ngày 7 tháng 6 là ngày thứ 3. Em hãy giúp bạn Hồng biết ngày sinh nhật của bạn là ngày thứ mấy ?