

**20 ĐỀ ÔN TẬP CUỐI HỌC KÌ 1**  
**ĐỀ SỐ 1**

**Câu 1** (4 điểm). Khoanh vào chữ cái đặt trước câu trả lời đúng

1. (0,5 điểm) Số liền trước của 99 là: (M1)

- A. 97                      B. 98                      C. 100                      D. 101

2. (0,5 điểm) Dãy số được viết theo thứ tự **giảm dần** là: (M1)

- A. 91; 57; 58; 73; 24                      C. 24; 57; 58; 73; 91  
B. 91; 73; 58; 57; 24                      D. 91; 73; 57; 58; 24

3. (0,5 điểm) Cho dãy số: 1, 5, 9, 13, ... , ... . Hai số tiếp theo trong dãy là: (M3)

- A. 16, 18                      B. 18, 20                      C. 17, 20                      D. 17, 21

4. (1 điểm) Kết quả của phép tính nào **bé hơn 45**? (M2)

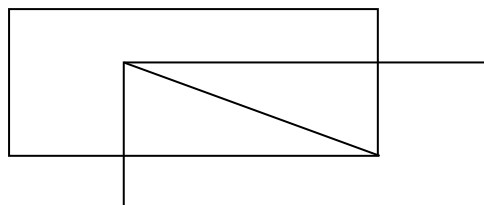
- A.  $24 + 27$                       B.  $73 - 28$                       C.  $62 - 37$                       D.  $28 + 18$

5. (0,5 điểm) Lan hái được 24 bông hoa, Liên hái được nhiều hơn Lan 16 bông hoa. Liên hái được số bông hoa là: (M3)

- A. 8 bông hoa                      B. 39 bông hoa                      C. 40 bông hoa                      D. 18 bông hoa

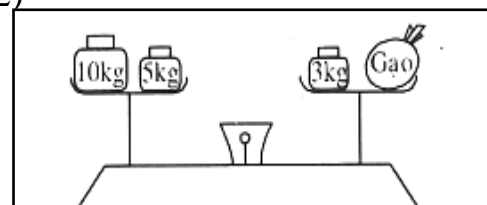
6. (1 điểm) Hình **M** có: (M3)

- A. 4 hình tam giác, 4 hình tứ giác.  
B. 4 hình tam giác, 3 hình tứ giác.  
C. 2 hình tam giác, 3 hình tứ giác.  
D. 2 hình tam giác, 4 hình tứ giác.



**Câu 2.** (2 điểm) Đúng ghi Đ, sai ghi S vào ô trống

- a. Muốn tìm số bị trừ ta lấy hiệu cộng với số trừ. (M2)  
 b. Độ dài một gang tay của mẹ khoảng 2dm. (M1)  
 c.  $45 + x = 92$ . Giá trị của  $x$  là: 48. (M2)  
 d. Trong hình **H**, túi gạo nặng 12kg. (M2)



**Câu 3.** (1 điểm) Đặt tính rồi tính (M2)

$$29 + 47$$

$$100 - 34$$

Hình **H**

.....  
.....  
.....  
.....  
.....  
.....

**Câu 4. (2 điểm) Giải toán (M2 + M3)**

Đoạn dây màu xanh dài 92cm. Đoạn dây màu đỏ ngắn hơn đoạn dây màu xanh 17cm. Hỏi đoạn dây màu đỏ dài bao nhiêu xăng-ti-mét?

**Bài giải**

.....

**Câu 5. (1 điểm) Viết vào chỗ chấm (M4)**

a. Một phép cộng có tổng bằng một số hạng:

.....

b. Một phép trừ có số bị trừ bằng hiệu:

.....

.....

## ĐỀ SỐ 2

**Bài 1:** Khoanh vào chữ cái đặt trước kết quả đúng. (4 điểm)

1. (0,5 điểm) Số liền sau số 99 là: (M1)

- A. 97                                      B. 98                                      C. 100                                      D. 101

2. (0,5 điểm) Số lớn nhất có hai chữ số khác nhau là: (M2)

- A. 88                                      B. 90                                      C. 99                                      D. 98

3. (0,5 điểm) Các số 75, 23, 97, 53 xếp theo thứ tự từ lớn đến bé là: (M1)

- A: 97,53, 75, 23      B: 97, 75, 23, 53      C: 97, 75, 53,23      D: 23, 53, 75, 97

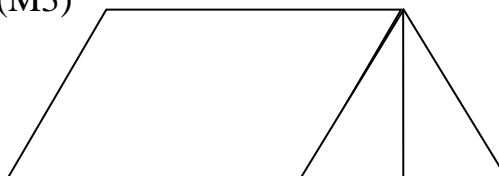
4. (0,5 điểm) Em đang học ở trường lúc : (M1)



- A. 12 giờ  
B. 9 giờ  
C. 21 giờ

5. (0,5 điểm) Hình sau có: (M3)

- A. 3 tứ giác  
B. 4 tứ giác  
C. 5 tứ giác



6. (1,5 điểm) Xem lịch tháng 4 và điền số hoặc chữ số thích hợp vào chỗ chấm : (M2 + 3)

	THỨ HAI	THỨ BA	THỨ TƯ	THỨ NĂM	THỨ SAU	THỨ BAY	CHỦ NHẬT
4				1	2	3	4
	5	6	7	8	9	10	11
	12	13	14	15	16	17	18
	19	20	21	22	23	24	25
	26	27	28	29	30		

- Tháng 4 có.....ngày. Ngày 23 tháng 4 là thứ.....
- Trong tháng 4 có.....ngày thứ Năm. Các ngày đó là.....
- .....

**Bài 2 :** (2 điểm) Đặt tính rồi tính (M2)

.....

.....

.....

.....

.....

**Bài 3:** (1 điểm) Tìm X : (M3).....

$$X - 34 = 46 - 28$$

.....

.....  
.....  
.....  
**Bài 4** : (2 điểm) Năm nay mẹ 32 tuổi, mẹ kém bà 28 tuổi. Hỏi năm nay bà bao nhiêu tuổi? (M3)

**Bài giải**

.....  
.....  
.....  
.....  
.....  
.....  
.....  
.....  
.....

**Bài 5** : (1 điểm) Tính hiệu, biết số bị trừ là số lớn nhất có hai chữ số và số trừ là 90. (M4)

**Bài giải**

.....  
.....  
.....  
.....  
.....  
.....  
.....  
.....

.....  
.....

.....  
.....

.....  
.....

.....  
.....

.....  
.....