

TRƯỜNG TIỂU HỌC .....

Họ và tên: ..... Lớp: 3.....

Thứ ..... ngày ..... tháng ..... năm .....

KIỂM TRA ĐỊNH KÌ CUỐI HỌC KÌ II NĂM HỌC 2023 - 2024

MÔN: TOÁN - LỚP 3 (ĐỀ 1)

Điểm	Nhận xét của giáo viên
	.....
	.....
	.....

**I. Trắc nghiệm (5 điểm)**

**Câu 1(2 điểm).** Khoanh vào chữ cái đặt trước câu trả lời đúng

a) Số bé nhất trong các số: 65 420; 66 420; 57 273; 8141 là: (M1 - 0,5 điểm)

- A. 65 420                      B. 66 420                      C. 57 273                      D. 8141

b) Mai đi từ trường về lúc 10 giờ. Về đến nhà lúc 11 giờ kém 25 phút. Thời gian Mai đi từ trường về nhà là: (M1 - 0,5 điểm)

- A. 35 phút                      B. 25 phút                      C. 10 giờ 35 phút                      D. 15 phút

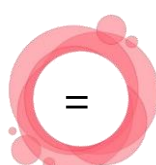
c) Có 48 cái cốc xếp đều vào 8 hộp. Hỏi có 2736 cái cốc thì xếp được bao nhiêu hộp như thế? (M2 - 0,5 điểm)

- A. 456 hộp                      B. 466 hộp                      C. 476 hộp                      D. 16 416 hộp

d) Tính diện tích hình chữ nhật biết chiều rộng là 7cm, chiều dài gấp 6 lần chiều rộng. (M2 - 0,5 điểm)



- A. 42cm<sup>2</sup>                      B. 294cm<sup>2</sup>                      C. 252cm<sup>2</sup>                      D. 26cm<sup>2</sup>

**Câu 2. (1 điểm)** Nối dấu >, <, = vào chỗ chấm thích hợp: (M2)



**Câu 3. (1 điểm) Điền số thích hợp vào ô trống và trả lời các câu hỏi bên dưới:**

(M2)



a) Đồ vật nào nhiều nhất? Đồ vật nào ít nhất?

.....

b) Số lượng cặp sách nhiều hơn số lượng cục tẩy là bao nhiêu?

.....

c) Kể tên các đồ vật trên theo số lượng tăng dần.

.....

**Câu 4. (1 điểm) Đúng ghi Đ, sai ghi S (M2)**

*Trong túi tiền có 3 đồng xu mệnh giá 2 000 đồng, 5 000 đồng và 10 000 đồng. Bình không nhin vào túi và lấy ra hai đồng xu.*

- Bình có thể lấy được 2 đồng xu 2000 đồng
- Bình không thể lấy được đồng xu 1000 đồng
- Bình chắc chắn lấy được hai đồng xu 5000 đồng và 10 000 đồng.
- Bình có thể lấy được đồng xu 2000 đồng và 5000 đồng



**II. Tự luận (5 điểm)**

**Câu 5. (1 điểm) Đặt tính rồi tính (M1)**

31728 + 15643

42907 – 29086

17193 × 4

69584 : 3

.....

.....

.....




**KIỂM TRA ĐỊNH KÌ CUỐI HỌC KÌ II NĂM HỌC 2023 - 2024**  
**MÔN: TOÁN - LỚP 3 (ĐỀ 2)**

Điểm	Nhận xét của giáo viên
	.....
	.....
	.....

**I. Trắc nghiệm (5 điểm)**

**Câu 1(4 điểm). Khoanh vào chữ cái đặt trước câu trả lời đúng**

- Số liền sau của số 75 280 là: (M1 - 0,5 điểm)  
 A. 75 279                      B. 75 270                      C. 75 281                      D. 75 290
- Số tám nghìn không trăm mười lăm viết là: (M1 - 0,5 điểm)  
 A. 8015                      B. 8150                      C. 8051                      D. 8105
- Giá trị của biểu thức  $9036 - 1035 \times 4$  là: (M2- 0,5 điểm)  
 A. 4140                      B. 4896                      C. 4869                      D. 4996
- Chủ nhật tuần này là ngày 20 thì thứ bảy tuần tới là ngày nào? (M2 - 0,5 điểm)  
 A. Ngày 26                      B. Ngày 27                      C. Ngày 28                      D. Ngày 13
- Một hình vuông có chu vi là 428cm. Cạnh của hình vuông đó là: (M2 - 1 điểm)  
 A. 104cm                      B. 105cm                      C. 106cm                      D. 107cm
- Đồng hồ bên chỉ mấy giờ? ( M2 - 0,5 điểm)  
 A. 10 giờ 5 phút                      B. 1 giờ 50 phút  
 C. 10 giờ 7 phút                      D. 1 giờ 52 phút



- Mẹ mua cho Linh hai cái mũ, mỗi cái giá 10 000 đồng và một chiếc khăn giá 25 000 đồng. Mẹ đưa cho cô bán hàng 50 000 đồng. Hỏi cô bán hàng phải trả lại mẹ bao nhiêu tiền? (M2 - 0,5 điểm)  
 A. 45 000 đồng                      B. 35 000 đồng                      C. 5000 đồng                      D. 15 000 đồng

**Câu 2. (1 điểm) Nam vào vườn hái rau củ cùng ông, Nam chọn nhỏ 3 loại củ vậy Nam có thể nhỏ được loại củ nào? Hãy tích chọn ý đúng. (M2)**

- |                          |   |
|--------------------------|---|
| <input type="checkbox"/> | Nam có thể nhỏ được củ cà rốt, củ su hào, củ khoai tây. |
| <input type="checkbox"/> | Nam có thể nhỏ được củ tỏi, củ cà rốt, củ hành.         |
| <input type="checkbox"/> | Nam có thể nhỏ được củ cải đỏ, củ tỏi, củ hành.         |
| <input type="checkbox"/> | Nam chắc chắn nhỏ được củ cà rốt, củ cải đỏ và củ tỏi.  |



**Câu 3. Điền dấu >, <, = thích hợp vào chỗ trống: (0,5 điểm) (M2)**

★  $5\ 180\text{cm} : 5 \dots\dots\dots 510\text{cm} \times 2$

★  $30\ 452\ \text{cm}^2 + 12\ 657\ \text{cm}^2 \dots\dots 43\ 109\ \text{cm}^2$

★  $48\ 000\text{g} \dots\dots\dots 12\text{kg} : 2 \times 7$

★  $5\ 290\ \text{ngày} \dots\dots\dots 755\ \text{tuần}$

**II. Tự luận (5 điểm)**

**Câu 4. (1 điểm) Đặt tính rồi tính (M2)**

a,  $57\ 195 + 23\ 584$

b,  $85\ 021 - 38\ 534$

c,  $60\ 462 \times 4$

d,  $71\ 235 : 5$

.....  
.....  
.....  
.....  
.....  
.....

**Câu 5. Sắp xếp dãy số sau theo thứ tự: (1 điểm) (M1)**

$42\ 412; 88\ 214; 43\ 123; 50\ 001; 50\ 010.$

a. Từ bé đến lớn:



b. Từ lớn đến bé:



**Câu 6. (1 điểm) Một sợi dây thừng dài 91880 m. Người ta ra chia sợi dây thành 6 phần bằng nhau. Hỏi mỗi đoạn dây dài bao nhiêu mét và còn thừa mấy mét dây? (M2)**

Trả lời: Mỗi đoạn dây dài ..... và còn thừa .....