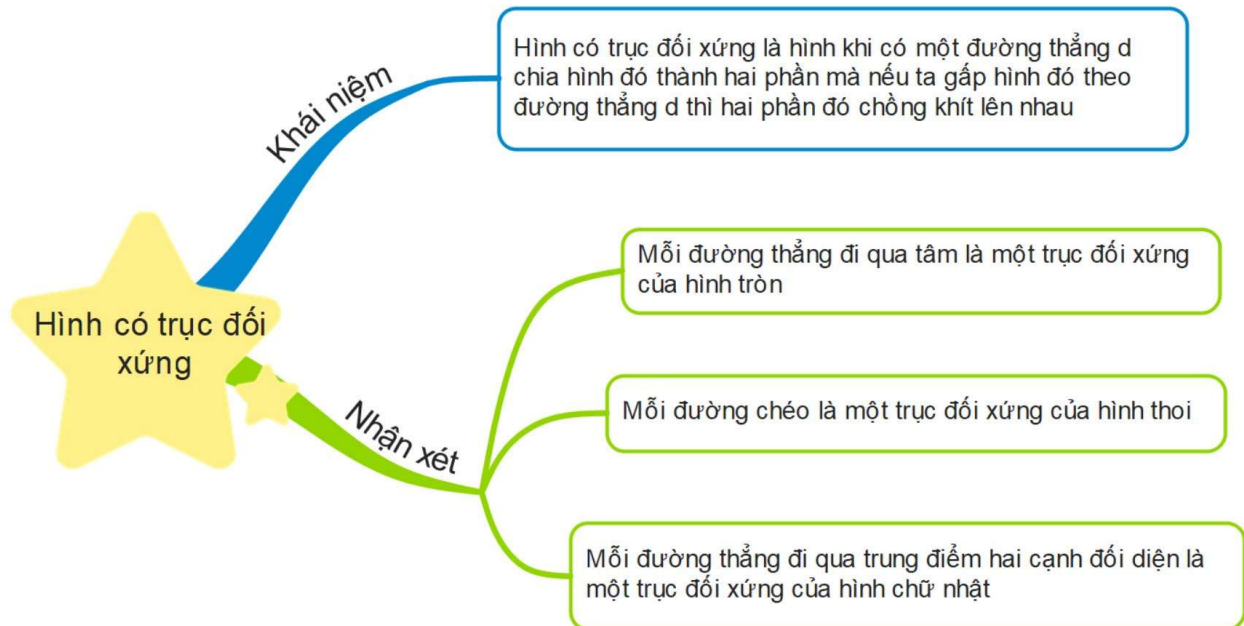


▷ Bài 21. HÌNH CÓ TRỤC ĐỐI XỨNG

A. TÓM TẮT LÝ THUYẾT



B. CÁC DẠNG TOÁN THƯỜNG GẶP VÀ PHƯƠNG PHÁP GIẢI

◎ Dạng 1: Nhận biết các hình có trục đối xứng trong thực tế.

◎ Phương pháp:

Dựa vào khái niệm hình có trục đối xứng, học sinh quan sát các hình ảnh để nhận biết hình có trục đối xứng.

◎ **Bài 1:** Trong các chữ cái dưới đây thì những chữ cái nào có trục đối xứng. Chỉ ra trục đối xứng của các chữ đó.

A B C D E

◎ **Bài 2:** Trong các chữ cái dưới đây thì những chữ cái nào có trục đối xứng. Chỉ ra trục đối xứng của các chữ đó.

X V Y U M

◎ **Bài 3:** Trong các chữ cái dưới đây thì những chữ cái nào có trục đối xứng. Chỉ ra trục đối xứng của các chữ đó.

H T O Ô Ă

◎ **Bài 4:** Trong các chữ cái dưới đây thì những chữ cái nào có trục đối xứng. Chỉ ra trục đối xứng của các chữ đó.

W N K I S


◉ **Bài 5:** Trong các chữ cái dưới đây thì những chữ cái nào có trục đối xứng. Chỉ ra trục đối xứng của các chữ đó.

Đ Ư R Ê G

◉ **Bài 6:** Các hình ảnh tại một số địa danh du lịch nổi tiếng thế giới sau đây có trục đối xứng không? Nếu có em hãy chỉ ra trục đối xứng của hình ảnh đó?




◉ **Bài 7:** Các hình ảnh tại một số địa danh du lịch nổi tiếng thế giới sau đây có trục đối xứng không? Nếu có em hãy chỉ ra trục đối xứng của hình ảnh đó?




◎ Bài 8: Các hình ảnh tại một số địa danh du lịch nổi tiếng thế giới sau đây có trục đối xứng không? Nếu có em hãy chỉ ra trục đối xứng của hình ảnh đó?



◎ Bài 9: Các hình ảnh của một số công trình kiến trúc sau đây có trục đối xứng không? Nếu có em hãy chỉ ra trục đối xứng của hình ảnh đó?



◎ Bài 10: Các hình ảnh của một số công trình kiến trúc và một số cách bài trí sau đây có đối xứng trục không? Nếu có em hãy chỉ ra trục đối xứng của hình ảnh đó?





◉ **Bài 11:** Các hình ảnh về một số loại lá sau đây có trục đối xứng không? Nếu có em hãy chỉ ra trục đối xứng của hình ảnh đó?



◉ **Bài 12:** Các hình ảnh về một số loại lá sau đây có trục đối xứng không? Nếu có em hãy chỉ ra trục đối xứng của hình ảnh đó?





◉ **Bài 13:** Các hình ảnh về một số loại hoa sau đây có trục đối xứng không? Nếu có em hãy chỉ ra trục đối xứng của hình ảnh đó?



◉ **Bài 14:** Các hình ảnh về một số loại quả sau đây có trục đối xứng không? Nếu có em hãy chỉ ra trục đối xứng của hình ảnh đó?



◉ **Bài 15:** Các hình ảnh về một số loại quả sau đây có trục đối xứng không? Nếu có em hãy chỉ ra trục đối xứng của hình ảnh đó?




◉ Bài 16: Các hình ảnh về kiến trúc, họa tiết hoa văn trang trí sau đây có trục đối xứng không? Nếu có em hãy chỉ ra trục đối xứng của hình ảnh đó?




◉ Bài 17: Các hình ảnh về họa tiết hoa văn trang trí sau đây có trục đối xứng không? Nếu có em hãy chỉ ra trục đối xứng của hình ảnh đó?




◉ Bài 18: Các hình ảnh về họa tiết hoa văn trang trí sau đây có trục đối xứng không? Nếu có em hãy chỉ ra trục đối xứng của hình ảnh đó?




◉ Bài 19: Các hình ảnh về họa tiết hoa văn trang trí sau đây có trục đối xứng không? Nếu có em hãy chỉ ra trục đối xứng của hình ảnh đó?




◉ Bài 20: Các hình ảnh về họa tiết hoa văn trang trí sau đây có trục đối xứng không? Nếu có em hãy chỉ ra trục đối xứng của hình ảnh đó?



◉ **Bài 21:** Các hình ảnh về các con vật sau đây có trục đối xứng không? Nếu có em hãy chỉ ra trục đối xứng của hình ảnh đó?



◉ **Bài 22:** Các hình ảnh về các con vật sau đây có trục đối xứng không? Nếu có em hãy chỉ ra trục đối xứng của hình ảnh đó?




◉ **Bài 23:** Các hình ảnh về các con vật sau đây có trục đối xứng không? Nếu có em hãy chỉ ra trục đối xứng của hình ảnh đó?





◉ **Bài 24:** Các hình ảnh về các con vật sau đây có trục đối xứng không? Nếu có em hãy chỉ ra trục đối xứng của hình ảnh đó?



◉ Bài 25: Các hình ảnh về các con vật sau đây có trục đối xứng không? Nếu có em hãy chỉ ra trục đối xứng của hình ảnh đó?



◉ Bài 26: Các hình ảnh về các biển báo chỉ dẫn giao thông sau đây có trục đối xứng không? Nếu có em hãy chỉ ra trục đối xứng của hình ảnh đó?




◉ Bài 27: Các hình ảnh về các biển báo chỉ dẫn giao thông sau đây có trục đối xứng không? Nếu có em hãy chỉ ra trục đối xứng của hình ảnh đó?



◉ Bài 28: Các hình ảnh về các biển báo chỉ dẫn giao thông sau đây có trục đối xứng không? Nếu có em hãy chỉ ra trục đối xứng của hình ảnh đó?






◉ Bài 29: Các hình ảnh về các biển báo chỉ dẫn giao thông sau đây có trục đối xứng không? Nếu có em hãy chỉ ra trục đối xứng của hình ảnh đó?



PTHToan6 - HKI - Vip

◉ **Bài 30:** Các hình ảnh về các biển báo chỉ dẫn giao thông sau đây có trục đối xứng không? Nếu có em hãy chỉ ra trục đối xứng của hình ảnh đó?



◉ Dạng 2: Vẽ các trục đối xứng của các hình phẳng

◉ **Phương pháp:**

◉ **Bài 1:** Vẽ 1 tam giác đều cạnh 4cm trên giấy và chỉ ra các trục đối xứng của nó (nếu có)

◉ **Bài 2:** Vẽ 1 hình thang cân trên giấy có đáy nhỏ dài 4 cm, đáy lớn dài 6cm và chỉ ra các trục đối xứng của nó (nếu có)

◉ **Bài 3:** Vẽ 1 hình vuông cạnh 6cm trên giấy và chỉ ra các trục đối xứng của nó (nếu có)

◉ **Bài 4:** Vẽ 1 hình chữ nhật có chiều dài bằng 4cm, chiều rộng bằng 2cm và chỉ ra các trục đối xứng của nó (nếu có)

◉ **Bài 5:** Vẽ 1 hình lục giác đều có cạnh 3cm trên giấy và chỉ ra các trục đối xứng của nó (nếu có)

◉ **Bài 6:** Vẽ 1 hình thoi có cạnh bằng 3cm trên giấy và chỉ ra các trục đối xứng của nó (nếu có)

◉ **Bài 7:** Vẽ 1 hình bình hành có độ dài 1 cạnh bằng 6cm và một cạnh bằng 3cm trên giấy và chỉ ra các trục đối xứng của nó (nếu có)