

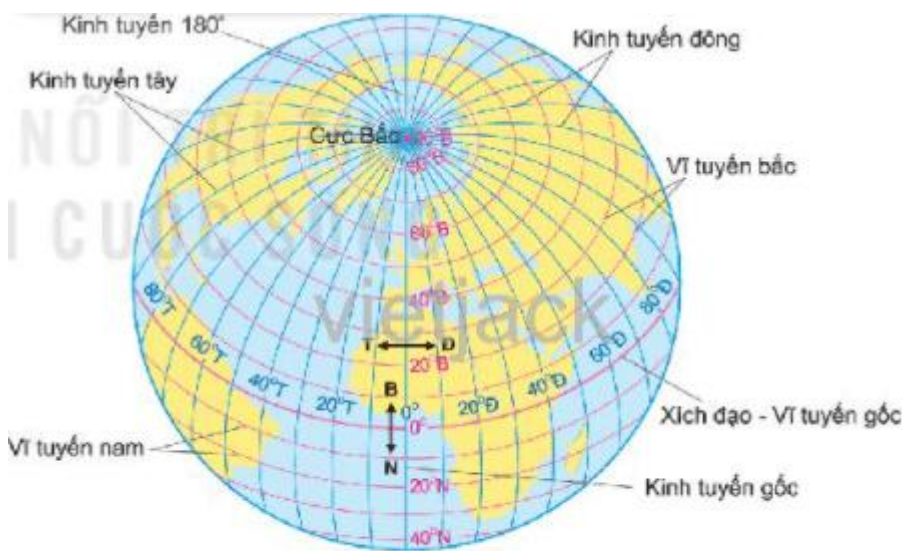
Giải bài tập Địa Lí lớp 6

(hay nhất, ngắn gọn)

Bài 1: Hệ thống kinh, vĩ tuyến Tọa độ địa lí

Câu hỏi 1 trang 102 Địa Lí lớp 6: Dựa vào hình 2 và đọc thông tin trong mục 1, em hãy

1. Xác định đường kinh tuyến gốc và vĩ tuyến gốc. Cho biết thế nào là kinh tuyến tây, kinh tuyến đông, vĩ tuyến bắc, vĩ tuyến nam.
2. So sánh độ dài của các kinh tuyến với nhau và độ dài giữa các vĩ tuyến với nhau.



Hình 2. Các đường kinh tuyến, vĩ tuyến trên quả Địa Cầu

Lời giải:

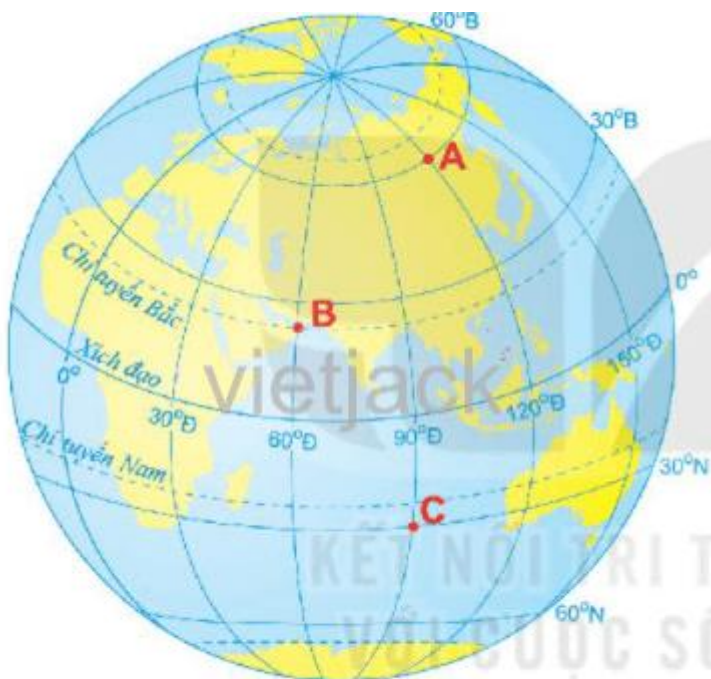
1. Đường kinh tuyến gốc và vĩ tuyến gốc. Kinh tuyến tây, kinh tuyến đông, vĩ tuyến bắc, vĩ tuyến nam.
 - Đường kinh tuyến gốc là đường kinh tuyến có kinh độ là 0° đi qua đài thiên văn Greenwich của Anh.
 - Vĩ tuyến gốc là đường vĩ tuyến có vĩ độ 0° hay còn gọi là Xích đạo.

- Kinh tuyến tây là những kinh tuyến nằm bên trái kinh tuyến gốc.
- Kinh tuyến đông là những kinh tuyến nằm bên phải kinh tuyến gốc.
- Vĩ tuyến bắc là những vĩ tuyến nằm từ Xích đạo đến cực Bắc.
- Vĩ tuyến nam là những vĩ tuyến nằm từ Xích đạo đến cực Nam.

2. So sánh các đường vĩ tuyến với nhau, kinh tuyến với nhau:

- Các đường kinh tuyến có độ dài bằng nhau (do đường kinh tuyến là đường nối liền hai cực của Trái Đất với nhau).
- Các đường vĩ tuyến có độ dài khác nhau
 - + Đường vĩ tuyến gốc (Xích đạo) có độ dài lớn nhất.
 - + Càng xa Xích đạo về hai cực các đường vĩ tuyến càng nhỏ dần.

Câu hỏi 2 trang 103 Địa Lí lớp 6: Xác định tọa độ địa lí của các điểm A, B, C trên hình 4



Hình 4. Một số địa điểm trên quả Địa Cầu

Lời giải:

Tọa độ các điểm là:

- Điểm A (60°B , 120°Đ).
- Điểm B ($23^{\circ}27'\text{B}$, 60°Đ).
- Điểm C (30°N , 90°Đ).

Luyện tập và Vận dụng 1 trang 103 Địa Lí lớp 6: Cho biết nếu vẽ các đường kinh tuyến, vĩ tuyến cách nhau 1° thì trên quả Địa Cầu có bao nhiêu kinh tuyến, vĩ tuyến.

Lời giải:

Nếu vẽ các đường kinh tuyến, vĩ tuyến cách nhau 1 độ thì trên quả Địa Cầu có tất cả:

- 360 kinh tuyến.
- 181 vĩ tuyến.

Luyện tập và Vận dụng 2 trang 103 Địa Lí lớp 6: Tra cứu thông tin, ghi tọa độ địa lí các điểm cực (Bắc, Nam, Đông, Tây) trên phần đất liền của nước ta.

Lời giải:

Tọa độ địa lí các điểm cực trên đất liền của nước ta là:

- Điểm cực Bắc ($23^{\circ}23'\text{B}$; $105^{\circ}20'\text{Đ}$) thuộc xã Lũng Cú - Đồng Văn - Hà Giang.
- Điểm cực Nam ($8^{\circ}34'\text{B}$; $104^{\circ}40'\text{Đ}$) thuộc xã Đất Mũi - Ngọc Hiển - Cà Mau.
- Điểm cực Đông ($12^{\circ}40'\text{B}$; $109^{\circ}24'\text{Đ}$) thuộc xã Vạn Thạnh - Vạn Ninh - Khánh Hòa.
- Điểm cực Tây ($22^{\circ}22'\text{B}$; $102^{\circ}09'\text{Đ}$) thuộc xã Sín Thầu - Mường Nhé - Điện Biên.

Bài 2: Bản đồ, Một số lưới kinh, vĩ tuyến Phương hướng trên bản đồ

Câu hỏi 1 trang 104 Địa Lí lớp 6: Khái niệm bản đồ

1. Em hãy cho biết quả Địa Cầu và bản đồ có điểm gì giống nhau và khác nhau.

2. Hãy nêu một số ví dụ cụ thể về vai trò của bản đồ trong học tập và đời sống.

Lời giải:

1. So sánh quả Địa Cầu và bản đồ

| Tiêu chí | Quả Địa Cầu | Bản đồ |
|------------|--|--|
| Giống nhau | Mô phỏng thu nhỏ một phần hay toàn bộ Trái Đất theo một tỉ lệ nhất định. | |
| Khác nhau | Dạng hình cầu; các kinh tuyến cắt nhau tại 2 điểm cực bắc và cực nam, còn các vĩ tuyến là các đường tròn đồng tâm. | Trên mặt phẳng giấy; Xây dựng trên cơ sở toán học, thể hiện các đối tượng địa lí bằng biểu tượng; Mạng lưới kinh, vĩ tuyến khác nhau phụ thuộc vào phép chiếu hình bản đồ. |

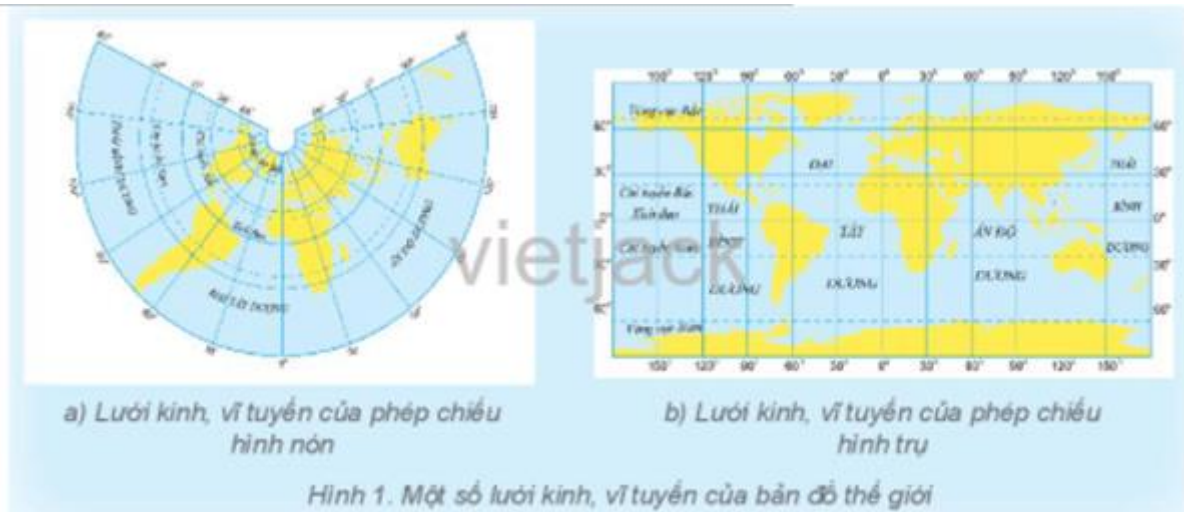
2. Một số ví dụ về vai trò của bản đồ trong học tập và đời sống

- Dùng để chỉ đường khi đi du lịch, đi đến một địa điểm bất kì (siêu thị, nhà hàng, bảo tàng,...) hoặc khi đi lạc đường.

- Xác định được vị trí địa lí, tọa độ địa lí một điểm, khu vực, vùng.

- Phân tích, nhận xét sự phân bố dân cư, công nghiệp, nông nghiệp, thủy sản,...

Câu hỏi 2 trang 105 Địa Lí lớp 6: Quan sát hình 1, em hãy nêu đặc điểm hình dạng lưới kinh, vĩ tuyến ở mỗi bản đồ.



Lời giải:

Đặc điểm hình dạng lưới kinh, vĩ tuyến ở mỗi bản đồ:

- Hình (a)

+ Kinh tuyến giữa là đường thẳng, các kinh tuyến còn lại là những đường thẳng nhưng nằm xiêm đối xứng nhau qua kinh tuyến giữa.

+ Vĩ tuyến là các đường bán tròn (đường cong), càng về cực các đường bán tròn càng nhỏ (đồng quy tại cực).

- Hình (b)

+ Các đường kinh tuyến là những đoạn thẳng song song và bằng nhau.

+ Các vĩ tuyến là những đoạn thẳng song song, bằng nhau và vuông góc với kinh tuyến.

Câu hỏi 3 trang 105 Địa Lí lớp 6: Dựa vào bản đồ Việt Nam trong Đông Nam Á ở trang 101, em hãy xác định hướng đi từ Hà Nội đến các địa điểm: Băng Cốc, Ma-ni-la, Xin-ga-po.